

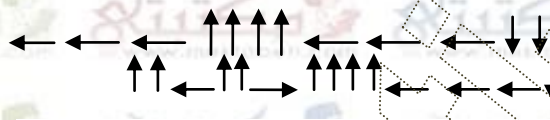
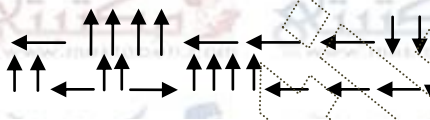
## امتحان في مادة الرياضيات السنة الرابعة الثلاثي الأول أنموذج 2

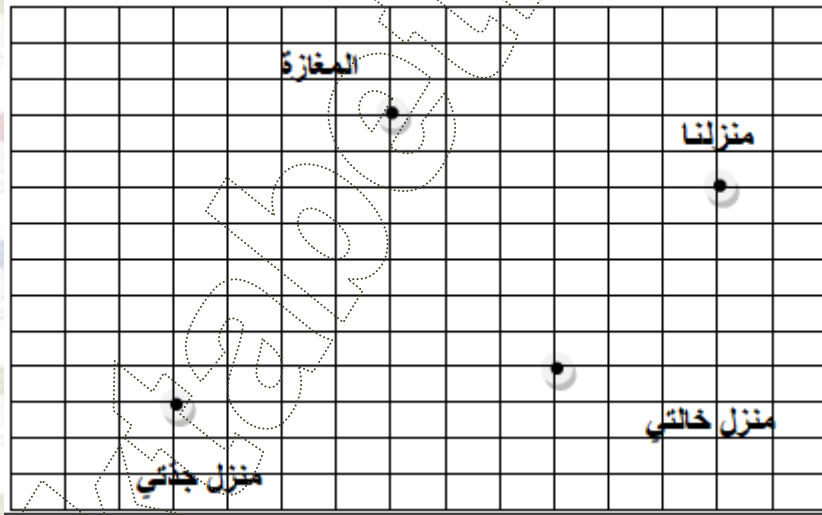
### السند 1 :

بمناسبة عيد الفطر ذهبت أمي وخالتي إلى السوق لشراء ملابس واتفقتا على أن يكون لقاءهما أمام مغارة الملابس.

التعليمة 1: أنظر على الشبكة وارسم المسلك الذي تبعته كل منهما انطلاقا من منزلها ووصولا لمغارة الملابس

مع 4

المسلك الذي تبعته أمي =   
المسلك الذي تبعته خالتي = 



### السند 2 :

كان لأمي المبلغ التالي:



مع 3

التعليمة 2: أحسب المبلغ الذي تملكه أمي بال(مي)

### السند 3

كان لخالتي المبلغ التالي:



مع 3

التعليمة 3: أحسب المبلغ الذي تملكه خالتي بال(مي)

.....

### السند 4

أرادت أمي وخالتي شراء هدية لأمهما (أي جدتي) فاخترتا واحدة ثمنها 24500مي

التعليمة 4: أحيط بخط مغلق الأوراق والقطع الممثلة للمبلغ بأقل عدد ممكن:

مع 3



### السند 5

في مغازة الملابس شرت أمي 3 سراويل بحساب 15670مي السروال الواحد وقميصا ب19500مي

التعليمة 5-1 أحسب ثمن السراويل ؟

مع 1

مع 2

مع 1

مع 2

مع 1

مع 2

التعليمة 5-3 أبحث عن المبلغ المتبقي لأمي؟

.....

### السند 6

شرت خالتي 4 أقمصة بحساب 9270مي الواحد وزوج جوارب ب1500مي.

التعليمة 6-1 أحسب ثمن مشتريات خالتي؟

مع 1

مع 2

مع 1

مع 2

التعليمة 6-2 أبحث عن المبلغ المتبقي لخالتي؟

.....

## السند 7

بعد شراء الملابس قصدت أمي وخالتي دار جدتي

التعليمة 7-1 أمثل على الشبكة المسلك المختصر الذي تبعته أمي وخالتي للوصول لدار جدتي.

مع4

## السند 8

لم تجد أمي وخالتي الجدة في بيتها فعدتا إلى المنزل وفي الطريق شرت أمي لي ولأخي لعبتين بحساب 3500مي للعبة وكرة واحدة بحساب 6250مي

التعليمة 8-1 أحسب ثمن المشتريات.

مع1

مع2

أحسب المبلغ



التعليمة 8-2 أعطت أمي لبائع اللعب الباقي لها بالـ(مي)

## السند 9

عند زيارتها لنا أعطتنا جدتي أنا وأخي مبلغا مالياً. اشترينا به قصصاً بـ6750مي وبقي لنا 8250مي

التعليمة 9-1 أطرح سؤالاً مناسباً للوضعية.

مع5

و أجيب عنه !

## جدول المعايير

5مع	4مع 3وضعيات	3مع 3وضعيات	2مع 6وضعيات	1مع 6وضعيات	المعايير التملكات
0	0	0	0	0	انعدام التملك
0	1	1	1.5	1.5	دون التملك
4	1.5	1.5	3.5	3.5	تلك أدنى
	2	2	6	6	تلك أقصى
4/....	2/...	2/...	6/...	6/...	المجموع